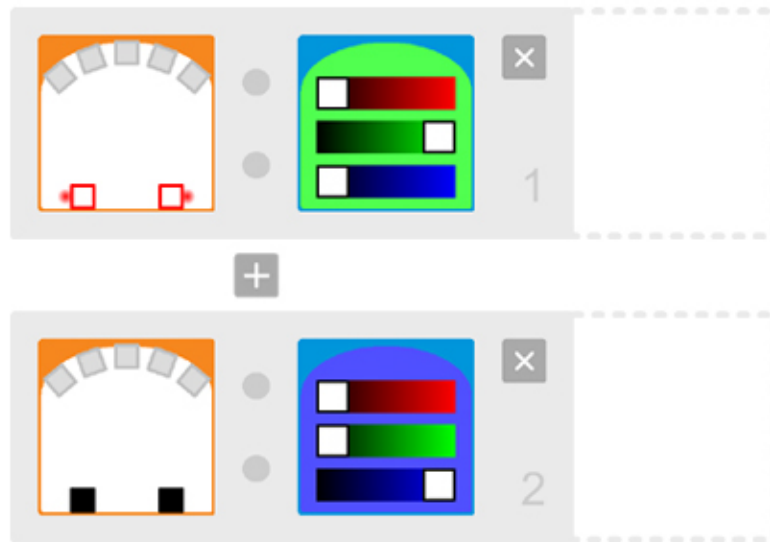


Arbeitsblatt 26: Thymios Sensoren

Aufgabe: Testet die folgenden beiden Programme mit eurem Thymio. Das Programm 5 besteht aus zwei Tests, das Programm 6 aus nur einem Test.

Programm 5:



Umkreise die richtige Antwort:


Welche Farbe hat Thymio, wenn sich deine Hand vor den beiden hinteren Sensoren befindet?

GRÜN / BLAU

Welche Farbe hat Thymio, wenn sich deine Hand nicht vor den hinteren Sensoren befindet?

GRÜN / BLAU

Programm 6:












Beantworte die Fragen:

Welche Farbe hat Thymio, wenn sich deine Hand vor den beiden hinteren Sensoren befindet?

Welche Farbe hat Thymio, wenn sich deine Hand nicht vor den hinteren Sensoren befindet?

Verbinde die Icons mit dem, was sie bedeuten:

- | | |
|---|--|
| Das Icon  bedeutet  |  "WENN der Sensor ... detektiert oder nicht detektiert" |
| Das Icon  bedeutet  |  "WENN der Sensor ... nicht detektiert" |
| Das Icon  bedeutet  |  "WENN der Sensor ... detektiert" |